


Problème 1

Vanessa compte ses crayons . Elle en a 4 dans sa trousse. Son frère lui en *donne* 6 de plus.

Combien de crayons a-t-elle en tout ?

Dessin et calcul

Problème 2

Jonathan s'occupe de plier les chaussettes de toute la famille. Il plie 4 *paires*  de chaussettes.

Combien de chaussettes a-t-il plié en tout ?

Dessin et calcul

Problème 3



Olivier a **7** bandes dessinées dans sa chambre. Son frère lui demande de lui en *prêter* **4**.

Combien de bandes dessinées reste-t-il à Olivier ?

Dessin et calcul

Problème 4

Sophie fait le tri dans son armoire. Elle a **13** robes en tout.



Elle décide d'en *donner* **6** à sa petite sœur car elles ne lui vont plus.

Combien de robes lui reste-t-il ?

Dessin et calcul

Problème 5

Karina veut aller faire *ses courses* à la Migros. Elle vérifie dans son porte-monnaie et trouve :





Un billet de 10 chf, une pièce de 5 chf et une pièce de 2 chf.

Combien a-t-elle d'argent en tout ?

Dessin et calcul

Problème 6

La mère de Diego lui a demandé de compter *les couverts* qui sont dans le tiroir. Il compte :

5 fourchettes  5 couteaux 
3 cuillères à café  4 cuillères à soupe 

Combien de couverts y-a-t-il en tout ?

Dessin et calcul